

ИТОГОВАЯ РАБОТА ПО МАТЕМАТИКЕ ДЛЯ 1 КЛАССА

РЕГИСТРАЦИОННЫЕ ДАННЫЕ

Код региона

Код школы

Код класса

Код ученика

Демонверсия

Фамилия, Имя учащегося

1) Рассмотри числа. Запиши их в порядке возрастания.

12 20 16 11

Ответ: _____


2) Найди значение выражения.

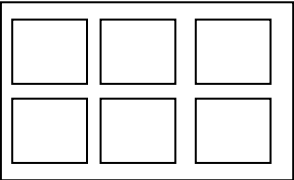
14 - 6 = _____

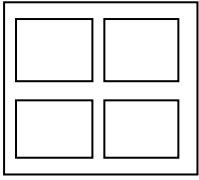
3) Найди значение выражения.

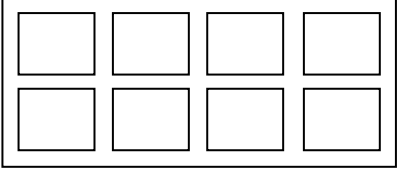
13 + 4 = _____

4) Отметь коробку, в которую не поместятся мячи.



1) 

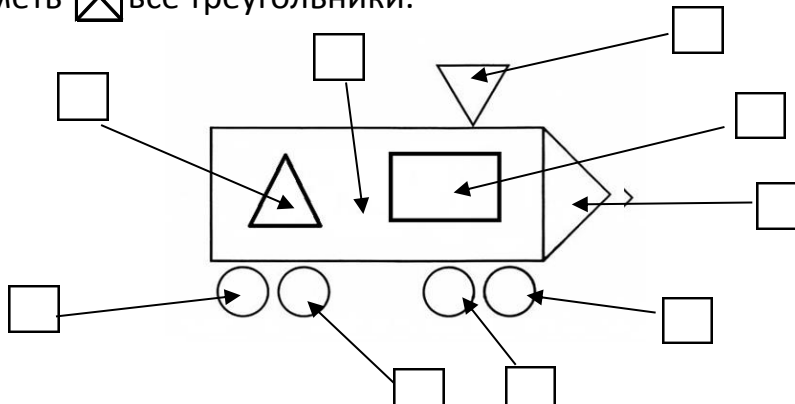
2) 

3) 

5) Реши задачу: Блокнот стоит 10 рублей, а карандаш на 4 рубля дешевле. Сколько стоит карандаш? Ответ отметь

1) 14 2) 10 3) 6 4) 4

6) Отметь все треугольники.



12

Аня сложила несколько одинаковых чисел и получила в ответе 8.
Какие числа сложила Аня?



Решение 1: _____

Решение 2: _____

Решение 3: _____

13

Дети пошли на рыбалку. В таблице указано, сколько рыб поймал каждый.



Дети	Рыба	
	Карась	Окунь
Настя	3	1
Света	5	2
Оля	1	4
Лёша	4	3

Ответь на вопросы. Ответ отметь

1) Сколько окуней поймала Настя?

1) 1 2) 2 3) 4 4) 5

2) Кто поймал больше всего карасей?

1) Настя 3) Оля

2) Света 4) Лёша

3) Сколько всего окуней поймали Оля и Лёша?

Ответ: _____

14

В корзине лежит 5 груш, 3 яблока, 4 помидора и 1 слива.
Сколько фруктов лежит в корзине?



Ответ: _____

Запиши решение.

Решение:
