

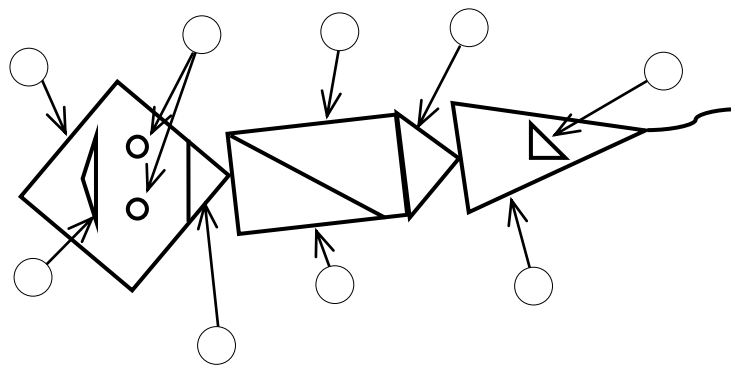
**ИТОГОВАЯ РАБОТА ПО МАТЕМАТИКЕ ДЛЯ 1 КЛАССА**  
**(2012/2013 учебный год)**

**Вариант 1**

Школа \_\_\_\_\_ Класс 1 \_\_\_\_\_

Фамилия, имя \_\_\_\_\_

1. Какие детали воздушного змея имеют форму треугольника? Отметь их .



2. Выполни действие. Запиши ответ.

$$14 - 8$$

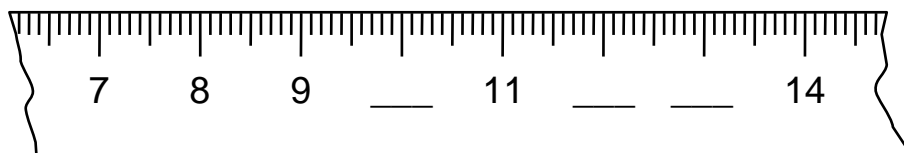
Ответ: \_\_\_\_\_

3. Выполни действие. Запиши ответ.

$$11 + 8$$

Ответ: \_\_\_\_\_

4. Впиши пропущенные числа.



5. Ручка стоит девять рублей, а карандаш на два рубля дешевле. Сколько стоит карандаш? Отметь .

2 р.

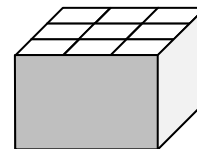
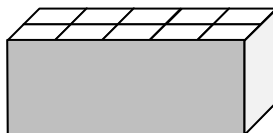
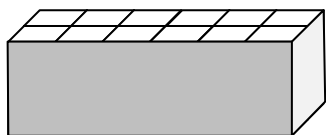

7 р.

5 р.

9 р.



9. У Миши солдатики. В какую коробку он может их сложить, если в каждую ячейку можно положить только одного солдата и все ячейки должны быть заняты? Отметь коробку .



10. Выбери число, которое на 4 больше, чем 9. Отметь .

5



9



13



14



11. Вася наловил рыбы для кошки. Рыб больше 11, но меньше 14. Сколько рыб мог поймать Вася?



Ответ: \_\_\_\_\_

12. Гена сложил несколько одинаковых чисел и получил в ответе 8. Какие числа сложил Гена?



Решение 1: \_\_\_\_\_

Решение 2: \_\_\_\_\_

Решение 3: \_\_\_\_\_

13. Ребята играли на компьютере. В каждой игре побеждает тот, кто заработает больше очков.

В таблице указано, сколько очков заработал каждый игрок.

Дети	Игры	
	«Космос»	«Цирк»
Лена	2	5
Антон	5	1
Вера	3	4
Стёпа	5	6

Ответь на вопросы.

а) Сколько очков заработали мальчики в игре «Цирк»? Отметь .

1

6

7

11

б) Кто победил в игре «Космос»? Отметь .

Лена

Антон

Вера

Стёпа

в) На сколько больше очков заработали девочки, чем мальчики в игре «Цирк»?

Ответ: на \_\_\_\_\_

14. К обеду бабушка сорвала 4 морковки, помидор, 2 яблока и 3 огурца.



Сколько штук овощей сорвала бабушка?

Ответ: \_\_\_\_\_

Запиши решение.

Решение:
