

**ИТОГОВАЯ РАБОТА ПО МАТЕМАТИКЕ  
ДЛЯ 3 КЛАССА**

(2013/2014 учебный год)

**Вариант 4**

Школа ..... Класс 3 .....

Фамилия, имя .....

---

1. Запиши величины 300 кг, 2 т, 12 кг, 320 г в порядке убывания их значений.

Ответ: .....

---

2. Катя задумала число, увеличила его на 15 и получила 15. Какое число задумала Катя?

Ответ: .....

---

3. Вычисли:

$$190 \cdot 4$$

Ответ: .....

---

4. Толя измерил высоту табуретки на кухне. Какой ответ он мог получить? Отметь ответ .

120 см

98 см

46 см

21 см

---

5. Из чисел 963, 260, 641, 466, 561 Оле нужно выписать все нечётные числа, у которых в разряде десятков записана цифра 6. Какие числа нужно выписать Оле?

Ответ: .....

---

6. Найди значение числового выражения

$$30 + (35 - 21) \cdot 3.$$

Отметь ответ .

132

72

42

2



---

11. Марина вынула из кошелька 4 монеты по 5 рублей, а в кошельке у неё осталось 60 рублей. Сколько всего денег у Марины? С помощью какого числового выражения можно получить ответ на вопрос? Отметь ответ .

- $60 - 5 \cdot 4$
- $60 + 4 + 5$
- $5 \cdot 4$
- $5 \cdot 4 + 60$

---

12. Вася заплатил за 2 л молока 66 рублей, а Толя за 3 л молока – 90 рублей.

Кто из мальчиков купил молоко по более высокой цене за литр?

Запиши ответ и объясни его.

Ответ: .....

Объяснение: .....

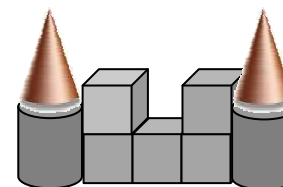
.....

.....

.....

---

13. Гена сложил из конструктора замок. Запиши номера фигур, которые он использовал.



- 1) куб
- 2) прямоугольник
- 3) шар
- 4) цилиндр
- 5) конус

Ответ: .....

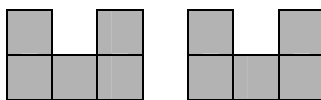
---

14. Какие из следующих математических утверждений верные? Выпиши их номера.



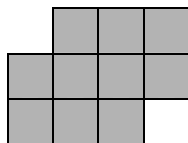

- 1) Все числа: 10, 50, 204, 310 – круглые.
- 2) Если число умножить на 0, то получится 0.
- 3) Частное чисел 10 и 2 равно 8.

Ответ: .....

15.



Из этих двух деталей конструктора сложили фигуру. Выбери эту фигуру. Отметь ответ .



## Дополнительная часть

16. Миша сделал из бумаги 8 самолётиков. Половину самолётиков он отдал другу и сделал себе ещё столько же самолётиков, сколько отдал, и ещё 3. Сколько теперь самолётиков у Миши?



Запиши ответ и объясни его.

Ответ: .....

Объяснение: .....

.....  
.....  
.....

17. Гена хочет оплатить без сдачи покупку стоимостью 310 рублей. У него есть банкноты по 10 р., 50 р., 100 р. и 500 р., которые изображены на рисунке.



Запиши в таблице три способа оплаты билета без получения сдачи, которые мог использовать Гена.

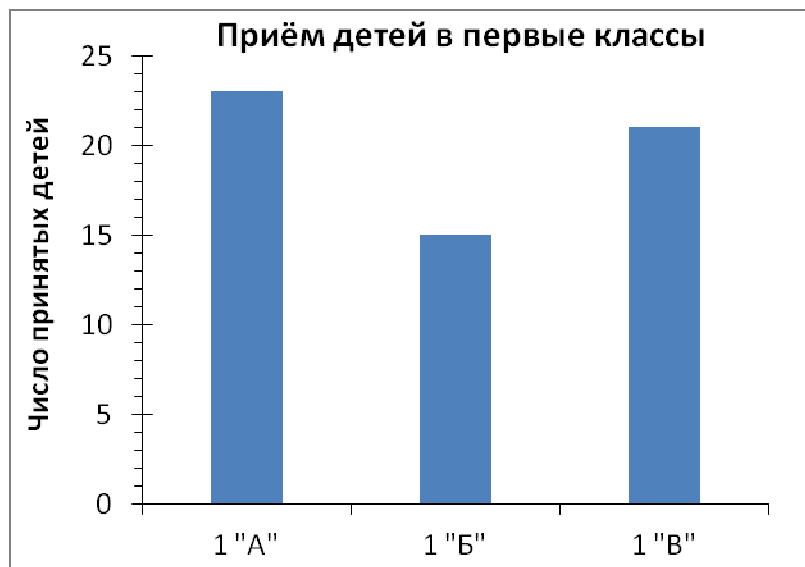
Банкноты	Количество банкнот		
	Первый способ	Второй способ	Третий способ
10 рублей			
50 рублей			
100 рублей			
500 рублей			

18. Артур записывал числа 11, 14, 16, 23, 36, 40 в таблицу по заданному правилу. Некоторые числа он записала неверно. Выпиши числа, которые он записал неверно.

	<b>Больше 21</b>	<b>Меньше 21</b>
<b>Делится на 2</b>	16, 23, 40	14, 11, 36

Ответ: .....

19. На диаграмме показано число детей, принятых в первые классы школы.



Из 1 «А» перевели в 1 «Б» пять учеников. В каком классе теперь больше учеников, в 1 «А» или в 1 «Б»?

Запиши ответ и объясни его.

Ответ: .....

Объяснение: .....

.....

.....

.....